

Aufgabe 1:

3 Punkte

Man zeige durch vollständige Induktion :

$$(4 \cdot 7^n - 1) \text{ ist durch } 3 \text{ teilbar , } n \geq 0 .$$

Lösung :

Induktions-Anfang :

Für $n = 0$ gilt : $4 \cdot 1 - 1 = 3$ ist durch 3 teilbar.

Induktions-Annahme :

Für n gelte : $4 \cdot 7^n - 1 = 3$ sei durch 3 teilbar.

Induktions-Behauptung :

Für $(n + 1)$ gilt dann : $4 \cdot 7^{n+1} - 1 = 3$ ist durch 3 teilbar.

Induktions-Beweis :

$$\begin{aligned} 4 \cdot 7^{n+1} - 1 &= 4 \cdot 7^{n+1} - 1 - (4 \cdot 7^n - 1) + (4 \cdot 7^n - 1) \\ &= 4 \cdot 7^{n+1} - 4 \cdot 7^n + (4 \cdot 7^n - 1) \\ &= 4 \cdot 7^n(7 - 1) + (4 \cdot 7^n - 1) \\ &= 4 \cdot 7^n \cdot 6 + (4 \cdot 7^n - 1) \end{aligned}$$

$4 \cdot 7^n - 1$ ist per Annahme durch 3 teilbar und 6 ist auch durch 3 teilbar,
so ist auch $4 \cdot 7^{n+1} - 1$ durch 3 teilbar.

Aufgabe 2:

3 Punkte

Berechnen Sie alle Lösungen der Gleichung und skizzieren Sie sie in der komplexen Ebene.

$$z^3 = i$$

Hinweis: $\cos\left(\frac{\pi}{6}\right) = \frac{\sqrt{3}}{2}$

Lösung :

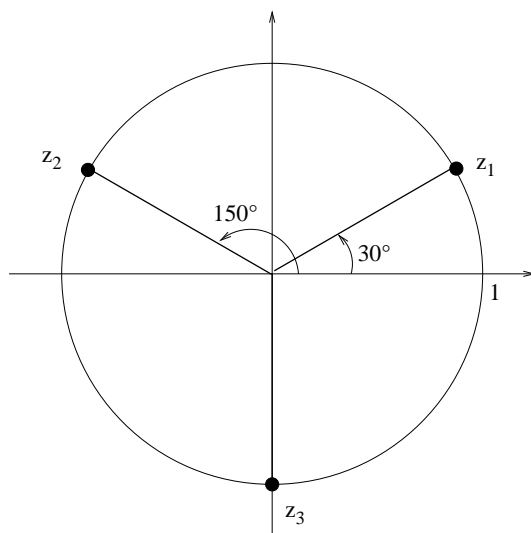
Es gilt $i = e^{i \cdot \frac{\pi}{2}} = e^{i \cdot (\frac{\pi}{2} + 2k\pi)} = e^{i \cdot \pi \cdot \frac{1+4k}{2}} \implies$

$$z = e^{i \cdot \pi \cdot \frac{1+4k}{6}}, \quad k = 0, 1, 2 \implies$$

$$z_1 = e^{i \cdot \frac{\pi}{6}} = \cos\left(\frac{\pi}{6}\right) + i \cdot \sin\left(\frac{\pi}{6}\right) = \frac{\sqrt{3}}{2} + i \cdot \frac{1}{2}$$

$$z_2 = e^{i \cdot \pi \cdot \frac{5}{6}} = \cos\left(\frac{5\pi}{6}\right) + i \cdot \sin\left(\frac{5\pi}{6}\right) = -\frac{\sqrt{3}}{2} + i \cdot \frac{1}{2}$$

$$z_3 = e^{i \cdot \pi \cdot \frac{9}{6}} = \cos\left(\frac{3\pi}{2}\right) + i \cdot \sin\left(\frac{3\pi}{2}\right) = -i$$



Aufgabe 3:

3 Punkte

Geben Sie eine konjunktive und eine disjunktive Normalform von α an.

A	B	f
0	0	1
0	1	0
1	0	1
1	1	1

Lösung :

a) Konjunktive Form

$$A \vee \bar{B}$$

b) Disjunktive Form

$$(\bar{A} \wedge \bar{B}) \vee (A \wedge \bar{B}) \vee (A \wedge B)$$

Aufgabe 4:

3 Punkte

Lösen Sie den Betrag auf und berechnen Sie die Lösungsmenge

$$|x - 1| > \frac{8}{x + 1}$$

Lösung :

a) $x \geq 1 \implies x - 1 > \frac{8}{x + 1} \implies (x - 1)(x + 1)^2 > 8(x + 1) \implies$

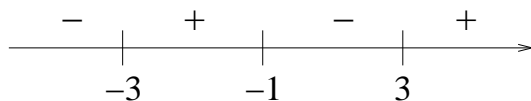
$$(x - 1)(x + 1)^2 - 8(x + 1) > 0 \implies$$

$$(x + 1)[(x - 1)(x + 1) - 8] > 0 \implies$$

$$(x + 1)(x^2 - 1 - 8) > 0 \implies$$

$$(x + 1)(x^2 - 9) > 0 \implies$$

$$(x + 1)(x - 3)(x + 3) > 0$$



$$L_1 = (1, \infty) \cap [(-3, -1) \cup (3, 8)] = (3, 8)$$

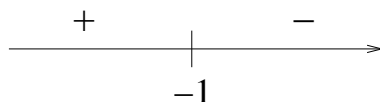
b) $x < 1 \implies -(x - 1) > \frac{8}{x + 1} \implies -(x - 1)(x + 1)^2 > 8(x + 1) \implies$

$$(x - 1)[-(x - 1)(x + 1) - 8] > 0 \implies$$

$$(x + 1)[-(x^2 - 1) - 8] > 0 \implies$$

$$(x + 1)(-x^2 + 1 - 8) > 0 \implies$$

$$-(x + 1)(x^2 + 7) > 0$$



$$L_2 = (-\infty, 1) \cap (-\infty, -1) = (-\infty, -1)$$

c) $L = L_1 \cup L_2 = (-\infty, -1) \cup (3, \infty)$

Aufgabe 5:

3 Punkte

Sei $M = \{z \in \mathbb{Z} \text{ mit } z = n + m * i, n, m \in \mathbb{N}_0\}$ und folgende Relation auf M gegeben:

$$z_1 \sim z_2 \Leftrightarrow n_1 + m_1 = n_2 + m_2 \text{ für } z_1 = n_1 + m_1 * i, z_2 = n_2 + m_2 * i$$

Zeigen Sie, dass es sich um eine Äquivalenzrelation handelt und zeichnen Sie einige Äquivalenzklassen in die Gauß'sche Zahlenebene ein.

Lösung :

a) Reflexivität

$$z \sim z, \text{ denn es gilt } n + m = n + m$$

b) Kommutativität

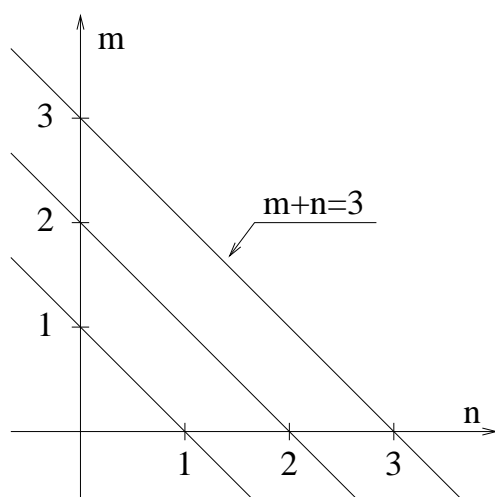
$$\text{Aus } z_1 \sim z_2, \text{ d.h. } n_1 + m_1 = n_2 + m_2$$

$$\text{folgt } z_2 \sim z_1, \text{ weil } n_2 + m_2 = n_1 + m_1 \text{ gilt.}$$

c) Aus $z_1 \sim z_2$ und $z_2 \sim z_3 \implies z_1 \sim z_3$

Beweis :

$$\left. \begin{array}{l} z_1 \sim z_2 \text{ d.h. } n_1 + m_1 = n_2 + m_2 \\ z_2 \sim z_3 \text{ d.h. } n_2 + m_2 = n_3 + m_3 \end{array} \right\} \implies n_1 + m_1 = n_3 + m_3 \text{ d.h. } z_1 \sim z_3$$



Aufgabe 6:

3 Punkte

- a) Wieviele Tanzpaare kann man aus 10 Männern und 8 Frauen bilden?
- b) Wieviele Tanzpaar-Mannschaften aus 8-Paare kann man aus 10 Männern und 8 Frauen bilden?

Lösung :

a) $10 \times 8 = 80$ Paare

b) $\binom{10}{8} = \frac{10 \cdot 9}{2} = 45$ Manschaften

Aufgabe 7:

3 Punkte

Man beweise die folgende Tautologie

$$\underbrace{\neg A \vee B}_L = \underbrace{(\neg A \wedge \neg B) \vee (\neg A \wedge B) \vee (A \wedge B)}_R$$

Lösung :

A	B	$\neg A$	$\neg B$	L	$\neg A \wedge \neg B$	$\neg A \vee B$	$A \wedge B$	R
0	0	1	1	1	1	0	0	1
0	1	1	0	1	0	1	0	1
1	0	0	1	0	0	0	0	0
1	1	0	0	1	0	0	1	1

Daraus folgt : $L = R$

Aufgabe 8:

3 Punkte

Zeigen Sie, dass die Menge $M = \{2^k \mid k \in \mathbb{Z}\}$ bezüglich Multiplikation eine kommutative Gruppe bildet.

Lösung :

a) Aus $2^k, 2^\ell \in M \implies 2^k \cdot 2^\ell = 2^{k+\ell} \in M$

b) Für $1 = 2^0$ gilt $2^k \cdot 2^0 = 2^k \quad \forall 2^k \in M$

c) $\forall 2^k \in M \quad \exists 2^{-k} \in M$ mit $2^k \cdot 2^{-k} = 2^{k-k} = 2^0 = 1$

d) $2^k \cdot 2^\ell = 2^{k+\ell} = 2^{\ell+k} = 2^\ell \cdot 2^k$ (Kommutativität)

Aufgabe 9:

3 Punkte

Gegeben sind die Mengen $M = \{1, 3, 5, 7\}$ und $N = \{2, 4, 7\}$

- Berechnen Sie $(M \setminus N) \cup (N \setminus M)$
- Bestimmen Sie die Potenzmenge $P(M)$ der Menge M
- Bestimmen Sie die Elemente der Kreuzmenge $M \times N$

Lösung :

a) $M \setminus N = \{1, 3, 5\}$

$$N \setminus M = \{2, 4\}$$

$$(M \setminus N) \cup (N \setminus M) = \{1, 2, 3, 4, 5\}$$

b) $P(M) = \left\{ \emptyset, \{1\}, \{3\}, \{5\}, \{7\}, \{1, 3\}, \{1, 5\}, \{1, 7\}, \{3, 5\}, \{3, 7\}, \{5, 7\}, \right.$
 $\left. \{1, 3, 5\}, \{3, 5, 7\}, \{1, 5, 7\}, \{1, 3, 7\}, \{1, 3, 5, 7\} \right\}$

c) $M \times N = \left\{ (1, 2), (1, 4), (1, 7), (3, 2), (3, 4), (3, 7), (5, 2), (5, 4), (5, 7), (7, 2), (7, 4), (7, 7) \right\}$

Aufgabe 10:

3 Punkte

Für welche Punkte der Gauß'schen Zahlenebene gilt :

$$5 * (\operatorname{Im}(z))^2 + z^2 \leq 16 + 2 * \operatorname{Re}(z) * \operatorname{Im}(z) * i$$

Lösung :

$$5y^2 + (x + i \cdot y)^2 \leq 16 + 2xy \cdot i \implies$$

$$5y^2 + x^2 - y^2 + 2xy \cdot i \leq 16 + 2xy \cdot i \implies$$

$$x^2 + 4y^2 \leq 16 \implies$$

$$\frac{x^2}{4^2} + \frac{y^2}{2^2} \leq 1$$

Die Punktmenge ist das innere (inklusive Rand) einer Ellipse mit Zentrum $(0, 0)$ und den Halbachsen 4 und 2.